









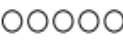
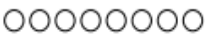
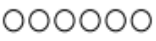
GUIA DE APRENDIZAJE N°3 COMPRENDER EJERCICIOS ESTRATEGIA COMPLETAR A 10		
Nombre:	Fecha:	Curso:
OA	Describir y aplicar estrategias de cálculo mental para adiciones y sustracciones hasta 20 completar 10	
Indicador(es):	Aplican estrategias de cálculo mental completar 10.	

Instrucción: Esta guía debes transcribirla y desarrollarla en el cuaderno.

1. Pinta las distintas combinaciones que permitan completar 10, sigue el ejemplo 

		→	<input type="text" value="4"/> + <input type="text" value="6"/> = 10
a.		→	<input type="text"/> + <input type="text"/> = 10
b.		→	<input type="text"/> + <input type="text"/> = 10
c.		→	<input type="text"/> + <input type="text"/> = 10

2. Dibuja la cantidad de fichas necesarias para completar 10 y escribe la cantidad. (Utiliza material concreto; lápices, porotos, lentejas, etc.) 

a.  3 + <u>7</u> = 10	b.  5 + <u> </u> = 10
c.  8 + <u> </u> = 10	d.  6 + <u> </u> = 10

3. Escribe el número que falta en el recuadro, para completar 10. (utiliza material concreto; lápices, porotos, lentejas, etc.)

a. + =

c. + =

b. + =

d. + =

¡Muy bien!

