



GUIA DE APRENDIZAJE: EL MUNDO DE LA ADICION Y SUSTRACION		
Nombre:	Fecha:	Curso:
OA	Demostrar que comprende la adición y la sustracción en el ámbito del 0 al 100.	
Indicador(es):	Resuelven adiciones y sustracciones hasta 100 Resuelven problemas de adición y sustracción	

1. Resuelva los siguientes problemas completando el espacio señalado

a)

<p>Corto 5 manzanas del árbol.</p> 	<p>9 manzanas en la bolsa.</p> 	<p>Hay en total manzanas</p> 
-----------------------------------------------------------------------------------------------------------------------	-------------------------------------------------------------------------------------------------------------------	-------------------------------------------------------------------------------------------------------------------------

A. Marque la operación que permite encontrar la cantidad de manzanas que hay en total.

a) $9 + 5$

b) $5 + 6$

c) $10 + 3$

b)

<p>Tengo 19 galletas</p> 	<p>Tengo 6 galletas</p> 	<p>Tenemos en total</p> 
--------------------------------------------------------------------------------------------------------------	--------------------------------------------------------------------------------------------------------------	---------------------------------------------------------------------------------------------------------------------

A. Marque la operación que permite encontrar la cantidad de manzanas que hay en total.

a) $12 + 6$

b) $10 + 6$

c) $19 + 6$

2. Calcule las siguientes adiciones:


$9 + 8 =$	$9 + 5 =$	$4 + 9 =$	$3 + 29 =$	$29 + 4 =$
$7 + 9 =$	$19 + 3 =$	$39 + 3 =$	$29 + 5 =$	$39 + 5 =$



3. Complete y resuelva las siguientes adiciones:



a)  +  =

b)  +  =

c)  +  =

4. Complete y resuelva las siguientes sustracciones:

a)  -  =

b)  -  =

c)  -  =

d)  -  =



¡Suerte!