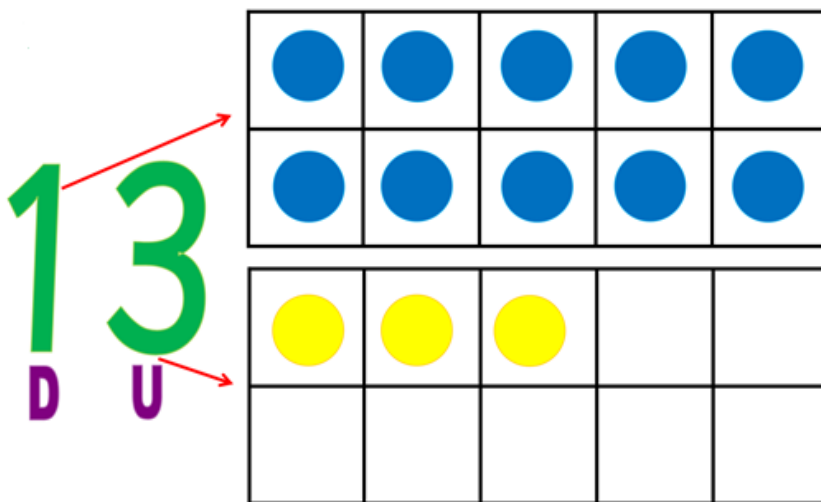




GUIA DE APRENDIZAJE:	
Nombre:	Fecha:
Curso:	
OA 8	Determinar las unidades y decenas en números del 0 al 20, agrupando de a 10, de manera concreta, pictórica y simbólica.
Indicador(es):	Agrupar una cantidad de objetos en decenas. Registrar con números la cantidad de elementos de un conjunto que ha sido agrupado de a 10 y los elementos restantes. Registrar de manera pictórica agrupaciones de a 10 y los elementos restantes. Cuentan en decenas y unidades, usando bloques multibase y apilables.

**Recuerda que estas actividades debes realizarla en tu cuaderno, no olvides colocar la fecha.**

Unidades y Decenas



Observamos el número 13 representado con círculos, donde la decena está formada por grupo de 10 círculos y las unidades están representadas con 3 círculos.

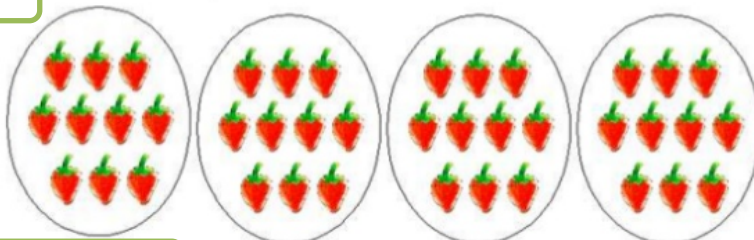


Formemos grupos de 10

Al agrupar, contamos más rápido.

- Hagamos grupos de 10.
- ¿Cuántas decenas y unidades hay?, ¿cuántas frutillas hay en total?

DECENAS



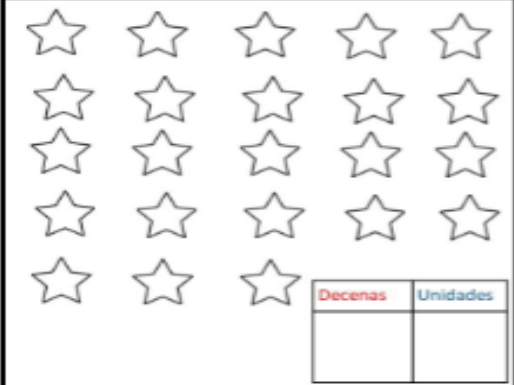
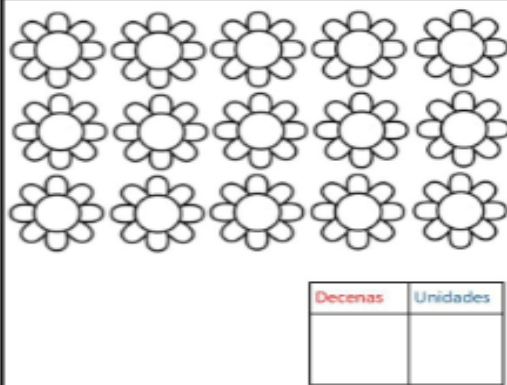
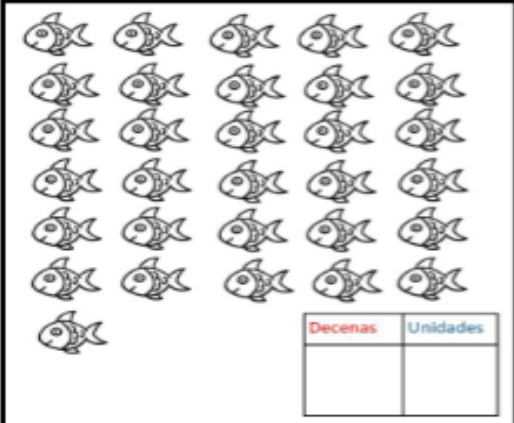
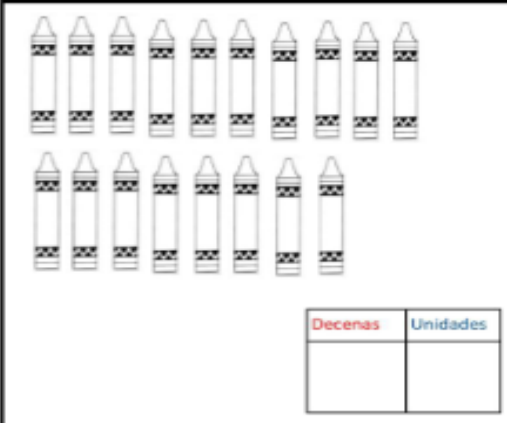
UNIDADES





Resumen  
 Tenemos 4 DECENAS Y 8 UNIDADES



1. Resuelve en tu cuaderno los siguientes ejercicios. Identifica cuantas unidades y decenas hay formando grupos de 10.

 <table border="1" data-bbox="613 640 808 745"><thead><tr><th>Decenas</th><th>Unidades</th></tr></thead><tbody><tr><td> </td><td> </td></tr></tbody></table> <p>En total hay _____ estrellas</p>	Decenas	Unidades			 <table border="1" data-bbox="1138 640 1333 745"><thead><tr><th>Decenas</th><th>Unidades</th></tr></thead><tbody><tr><td> </td><td> </td></tr></tbody></table> <p>En total hay _____ flores</p>	Decenas	Unidades		
Decenas	Unidades								
Decenas	Unidades								
 <table border="1" data-bbox="613 1165 808 1270"><thead><tr><th>Decenas</th><th>Unidades</th></tr></thead><tbody><tr><td> </td><td> </td></tr></tbody></table> <p>En total hay _____ peces</p>	Decenas	Unidades			 <table border="1" data-bbox="1138 1165 1333 1270"><thead><tr><th>Decenas</th><th>Unidades</th></tr></thead><tbody><tr><td> </td><td> </td></tr></tbody></table> <p>En total hay _____ colores</p>	Decenas	Unidades		
Decenas	Unidades								
Decenas	Unidades								

2. Rodea una decena y completa

	<table border="1" data-bbox="1141 1434 1412 1682"><tr><td>D</td><td>U</td></tr><tr><td> </td><td> </td></tr></table>	D	U		
D	U				
	<table border="1" data-bbox="1141 1696 1412 1936"><tr><td>D</td><td>U</td></tr><tr><td> </td><td> </td></tr></table>	D	U		
D	U				



3. Cuenta y dibuja la cantidad mencionada

D U

[ ] [ ]

[ ]

D U

[ ] [ ]

11

D U

[ ] [ ]

[ ]

