



Matemática
2°A


Escritura de Números

Semana del 11 al 15 de mayo

Profesora: Maira Pérez Pérez

Recordemos

La semana anterior trabajamos en conteo de números de 1 en 1 y de 2 en 2. ¿Repasemos?



1	2	3	4	5	6	7	8	9	10
11	12	13	14	15	16	17	18	19	20
21	22	23	24	25	26	27	28	29	30
31	32	33	34	35	36	37	38	39	40
41	42	43	44	45	46	47	48	49	50
51	52	53	54	55	56	57	58	59	60
61	62	63	64	65	66	67	68	69	70
71	72	73	74	75	76	77	78	79	80
81	82	83	84	85	86	87	88	89	90
91	92	93	94	95	96	97	98	99	100

DESAFÍO

¿Qué hora es ?

Recuerda que el **horario** marca las **horas** y corresponde al palito más corto del reloj.

Recuerda que el **minutero** marca los **minutos** y corresponde al palito más largo del reloj.

Escribe la hora.



Fecha:

Objetivo: Leer números en cifras o palabras.

- ❑ Escribe en tu cuaderno la fecha y el objetivo.
- ❑ Observa el siguiente video creado por tú profesora
<https://www.youtube.com/watch?v=490AVk9bIk>
- ❑ Lee la información entregada (explicación de contenido).
- ❑ Realiza cada una de las actividades en tu cuaderno.
- ❑ Resuelve cada uno de los desafíos que aparezcan, te ayudará a recordar contenido trabajado con anterioridad.

Aprendamos



¡Atención! Los números después de 30 se escriben separados.

31	Treinta y uno
32	Treinta y dos
43	Cuarenta y tres
44	Cuarenta y cuatro
55	Cincuenta y cinco
56	Cincuenta y seis
67	Sesenta y siete
68	Sesenta y ocho
79	Setenta y nueve
81	Ochenta y uno
92	Noventa y dos
93	Noventa y tres

Escritura de números en cifra.

Para escribir un número en cifras debemos comenzar desde izquierda a derecha, **por ejemplo: 23 – 36** entre otros.

Escritura de números en palabras.

Para escribir un número en palabras sólo debemos reconocer los sonidos que se utilizan, **por ejemplo:**
23 se escribe veintitrés.
36 se escribe treinta y seis.

Practiquemos

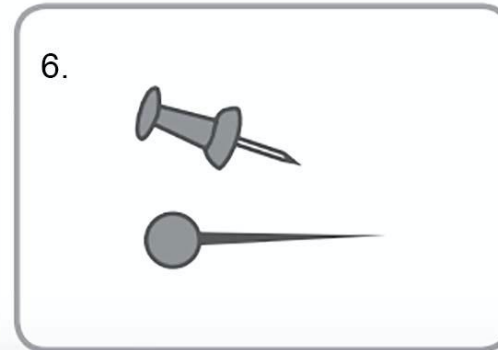
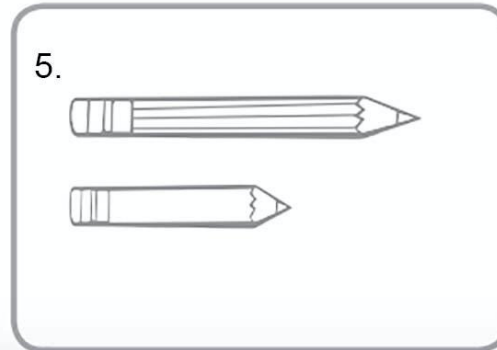
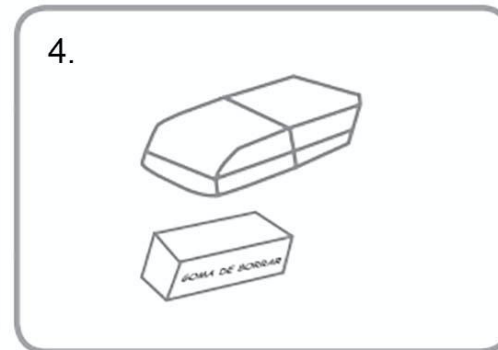
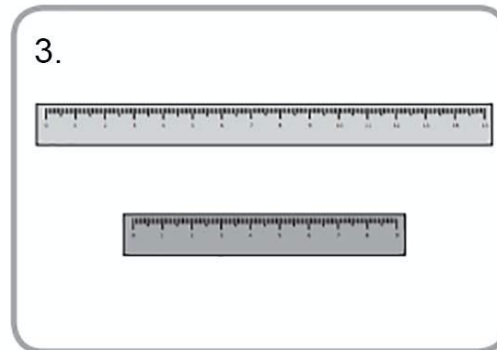
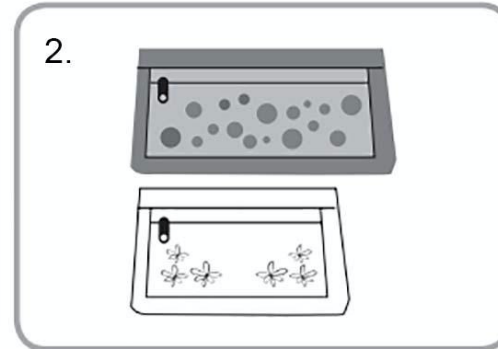
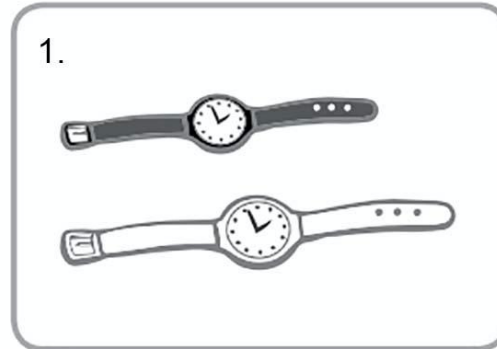


Copia en tu cuaderno el siguiente cuadro y completa según corresponda.

Número en cifras	Número en palabra
10	
	Veinticuatro
35	
	Cuarenta y siete
50	
	Diecisiete
18	
	Veintinueve
32	
	Quince

Para diferenciar distintos objetos por tamaño podemos hacerlo identificando cual es más **largo** y cual es más **corto**.
Observa la imagen y descubre la diferencia entre los objetos, cuales son más largos y más cortos.

DESAFIO



OA 14: Representar y describir la posición de objetos y personas con relación a sí mismos y a otros objetos y personas, incluyendo derecha e izquierda.

Observa las figuras.



a Une con una línea la tarjeta que completa correctamente cada frase.

A la derecha del sol está...

... el corazón.

A la izquierda del corazón está...

... el sol.

A la derecha del corazón está...

... el corazón.

A la izquierda de la estrella está...

... la estrella.

b Dibuja un cuadrado a la izquierda del sol.

c Dibuja un círculo bajo el corazón.



Actividad de cierre



En tu cuaderno haz un listado de números; 5 de ellos escritos en cifra y otros 5 escritos en palabras, lo importante es que utilices números distintos a los que trabajaste en la actividad anterior.



Material de apoyo.

- **1:** uno
- **2:** dos
- **3:** tres
- **4:** cuatro
- **5:** cinco
- **6:** seis
- **7:** siete
- **8:** ocho
- **9:** nueve
- **10:** diez
- **11:** once
- **12:** doce
- **13:** trece
- **14:** catorce
- **15:** quince
- **16:** dieciséis
- **17:** diecisiete
- **18:** dieciocho
- **19:** diecinueve
- **20:** veinte
- **21:** veintiuno
- **22:** veintidós
- **23:** veintitrés
- **24:** veinticuatro
- **25:** veinticinco
- **26:** veintiséis
- **27:** veintisiete
- **28:** veintiocho
- **29:** veintinueve
- **30:** treinta
- **31:** treinta y uno
- **32:** treinta y dos
- **33:** treinta y tres
- **34:** treinta y cuatro
- **35:** treinta y cinco
- **36:** treinta y seis
- **37:** treinta y siete
- **38:** treinta y ocho
- **39:** treinta y nueve
- **40:** cuarenta
- **41:** cuarenta y uno
- **42:** cuarenta y dos
- **43:** cuarenta y tres
- **44:** cuarenta y cuatro
- **45:** cuarenta y cinco
- **46:** cuarenta y seis
- **47:** cuarenta y siete
- **48:** cuarenta y ocho
- **49:** cuarenta y nueve
- **50:** cincuenta
- **51:** cincuenta y uno
- **52:** cincuenta y dos
- **53:** cincuenta y tres
- **54:** cincuenta y cuatro
- **55:** cincuenta y cinco
- **56:** cincuenta y seis
- **57:** cincuenta y siete
- **58:** cincuenta y ocho
- **59:** cincuenta y nueve
- **60:** sesenta
- **61:** sesenta y uno
- **62:** sesenta y dos
- **63:** sesenta y tres
- **64:** sesenta y cuatro
- **65:** sesenta y cinco
- **66:** sesenta y seis
- **67:** sesenta y siete
- **68:** sesenta y ocho
- **69:** sesenta y nueve
- **70:** setenta
- **71:** setenta y uno
- **72:** setenta y dos
- **73:** setenta y tres
- **74:** setenta y cuatro
- **75:** setenta y cinco
- **76:** setenta y seis
- **77:** setenta y siete
- **78:** setenta y ocho
- **79:** setenta y nueve
- **80:** ochenta
- **81:** ochenta y uno
- **82:** ochenta y dos
- **83:** ochenta y tres
- **84:** ochenta y cuatro
- **85:** ochenta y cinco
- **86:** ochenta y seis
- **87:** ochenta y siete
- **88:** ochenta y ocho
- **89:** ochenta y nueve
- **90:** noventa

- **91:** noventa y uno
- **92:** noventa y dos
- **93:** noventa y tres
- **94:** noventa y cuatro
- **95:** noventa y cinco
- **96:** noventa y seis
- **97:** noventa y siete
- **98:** noventa y ocho
- **99:** noventa y nueve
- **100:** cien